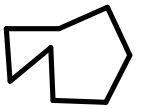
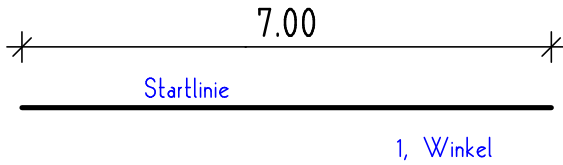


# WINKEL MESSEN

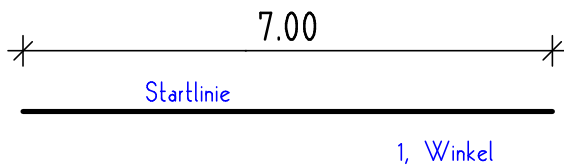
Zeichnen Sie einen Polygonzug mit folgenden Innenwinkeln:  
160°; 45°; 168,6° und 79,9°.  
Beschriften Sie die Winkel.  
Die 5 Linien sollten immer 7cm lang sein.



So könnte ein fertiger  
Polygonzug verkleinert  
aussehen.



Zeichnen Sie einen Polygonzug mit folgenden Innenwinkeln:  
85°; 320°; 105°; 62°; 170°; 114° und 133,4°.  
Beschriften Sie die Winkel.  
Die 8 Linien sollten immer 7cm lang sein.



Name: \_\_\_\_\_ Datum: \_\_\_\_\_

Klasse: \_\_\_\_\_ Blatt Nr.: \_\_\_\_\_