

NAME :

Datum: _____

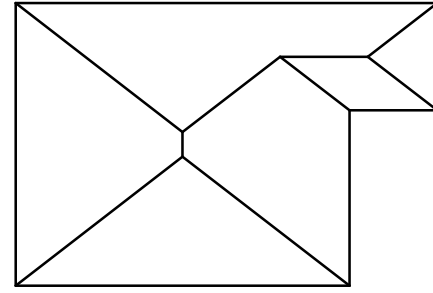
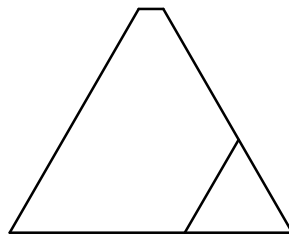
Klasse: Z3

Grundriss

B

- 1 Ermittle die wahre Länge des Verfallsgrates.

Ansicht A



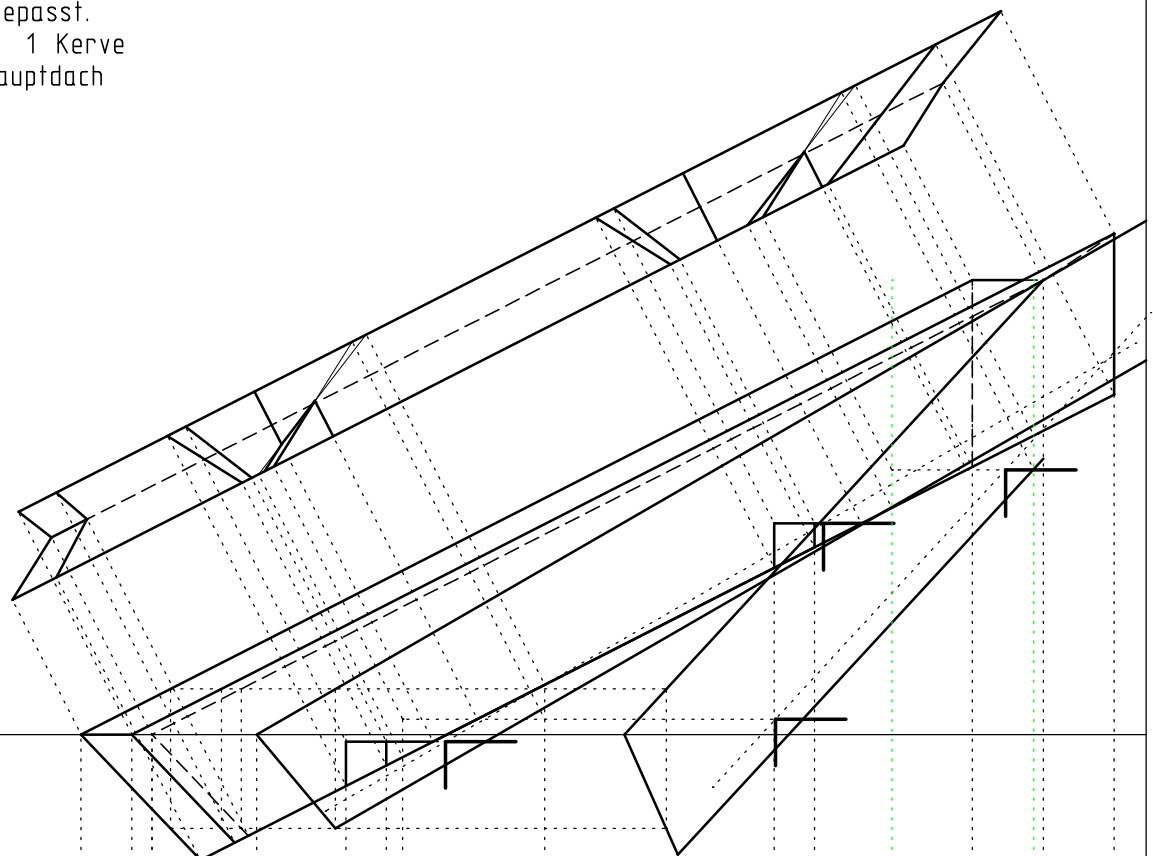
A

2P

- 2 Was versteht man unter einer Kehlbohle?
Wo wird sie verwendet?
Skizziere eine Querschnitt.

3P

- 3 Zeichnen Sie den Kehlsparren
Abschnitt angepasst.
Mindestens je 1 Kerbe
Anbau und Hauptdach
Untersicht



Firstlinie Anbau

Sparren 10/16
Abschnitt Haupthaus 80°
Dachneigung Haupthaus 30°
Kehlsparren 10/22
M 1:10

Anbau

Haupthaus