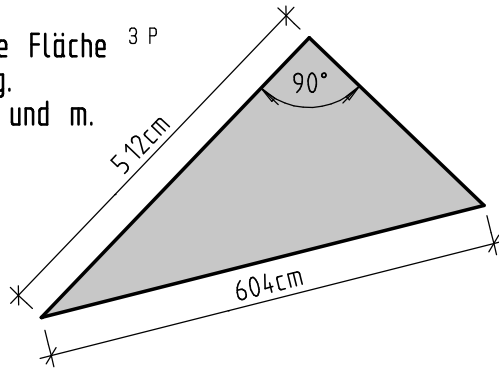
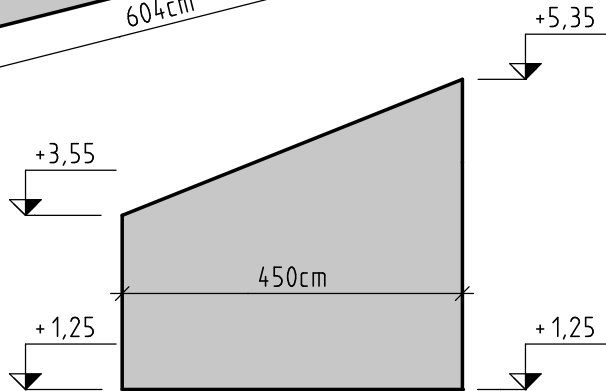


Rechenansatz oder Rechenformel aufschreiben

3.3 Berechnen Sie die Fläche und den Umfang.
Ergebnis in m^2 und m. 3 P



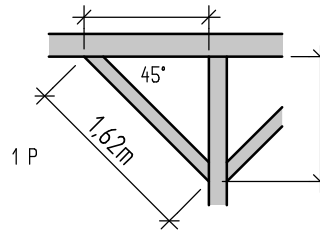
3.4 Berechnen Sie die Fläche und den Umfang.
Ergebnis in m^2 und m. 4 P



3.5 Kreis, Berechnen Sie die Fläche und den Umfang.
Ergebnis in cm^2 und cm. 2 P



3.6 Ein unter 45° eingebautes Kopfband hat eine Länge von 1,62m.
Wie groß sind die zwei Stichmaße? 1 P



4. Höhenmaße im Bauwesen

Berechnen Sie die gekennzeichneten Maße 6 P

