

A

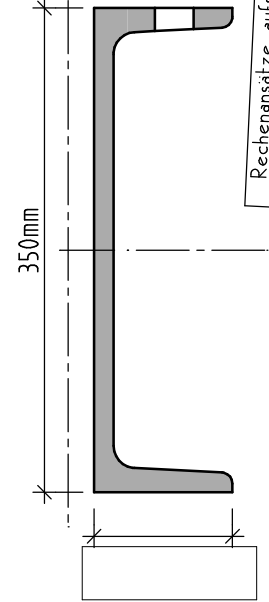
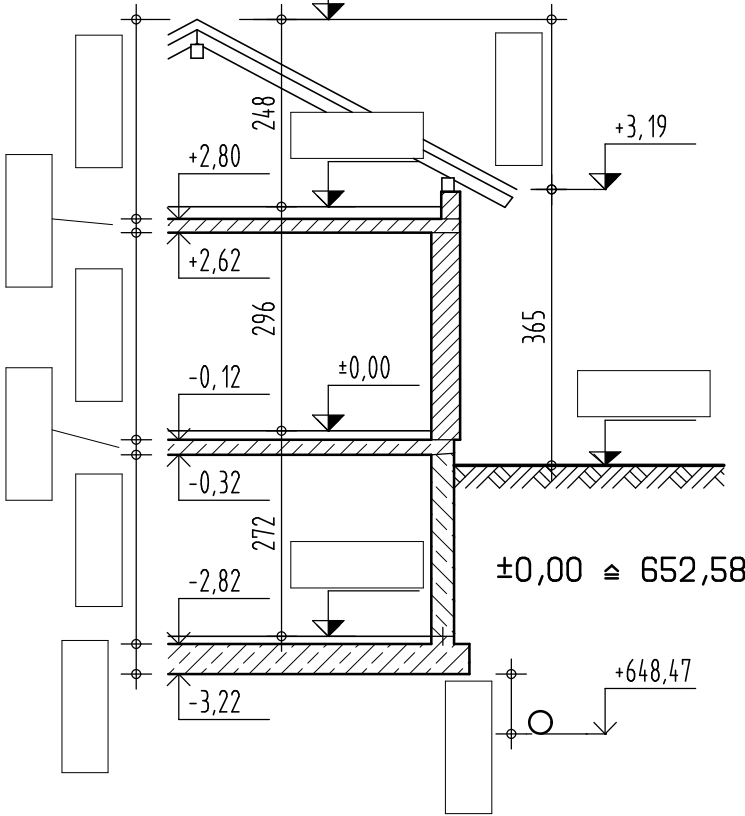
NAME

KLASSE DATUM

① Berechnen Sie alle offenen, mit Rechteck gekennzeichneten Höhenmaße.

② Eine rechteckige Fläche ist 8,60m x 5,10m groß. Zeichnen Sie sie im Maßstab 1:150 auf die Blattrückseite.

③ In welchem Maßstab ist dieses Stahlprofil gezeichnet? Wie groß ist die gekennzeichnete Länge?



Rechenansätze aufschreiben, Einheiten dazuschreiben

B

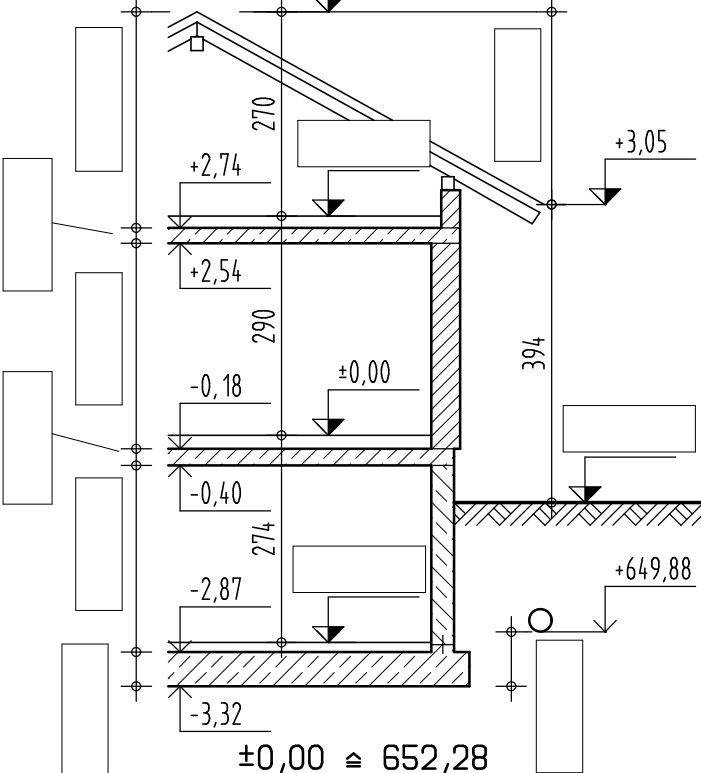
NAME

KLASSE DATUM

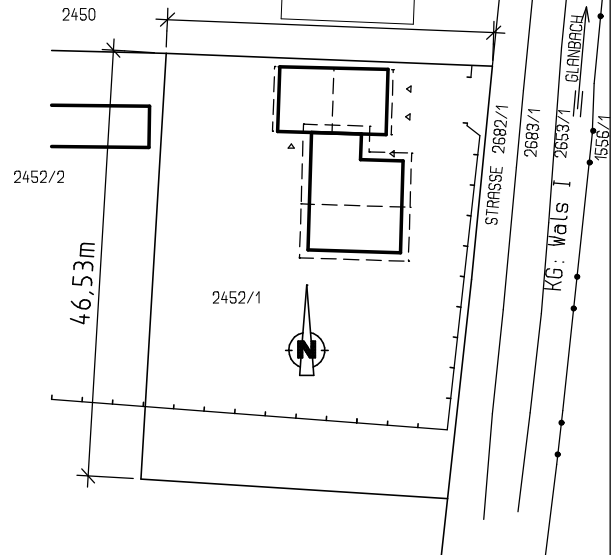
① Berechnen Sie alle offenen, mit Rechteck gekennzeichneten Höhenmaße.

② Eine rechteckige Fläche ist 1,50m x 2,70m groß. Zeichnen Sie sie im Maßstab 1:40 auf die Blattrückseite.

③ In welchem Maßstab ist der Lageplan gezeichnet? Wie groß ist die gekennzeichnete Länge?



LAGEPLAN



Einheiten und Rechenansätze aufschreiben