

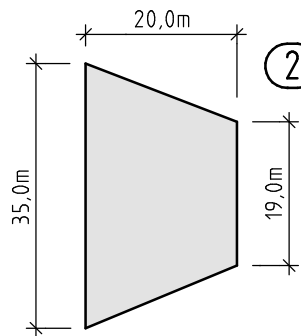
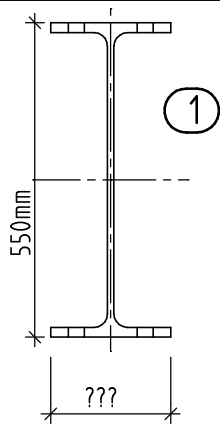
NAME _____

KLASSE _____ DATUM _____

In welchem Maßstab wurde nebenstehende Zeichnung gezeichnet?

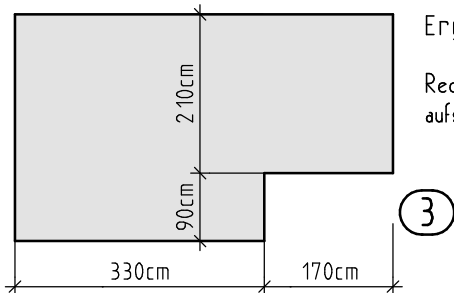
Ergänze das offene Maß.

Rechengänge bzw. Ansätze aufschreiben.



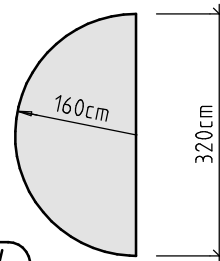
2 Berechne die Fläche

Berechne die Flächen und den zugehörigen Umfang.



Ergebnisse in m² bzw. m.

Rechengänge bzw. Ansätze aufschreiben.



4 ges.: Fläche und Umfang

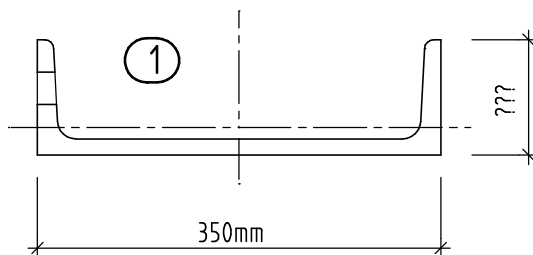
NAME _____

KLASSE _____ DATUM _____

In welchem Maßstab wurde nebenstehende Zeichnung gezeichnet?

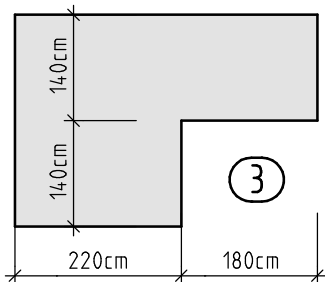
Ergänze das offene Maß.

Rechengänge bzw. Ansätze aufschreiben.

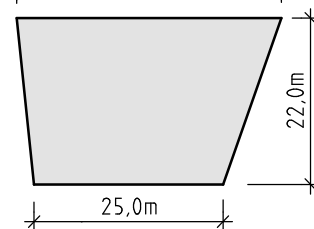


2 Berechne die Fläche

Berechne die Flächen und den zugehörigen Umfang.



Ergebnisse in m² bzw. m.



4 ges.: Fläche und Umfang