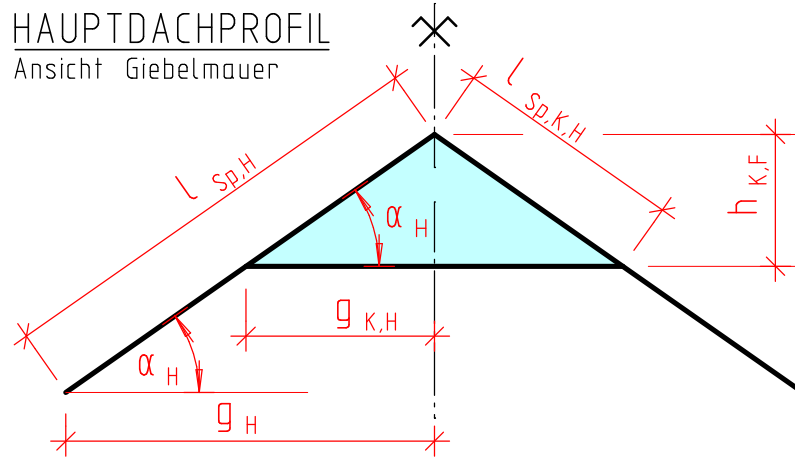


Das Krüppelwalmdach und seine Profile

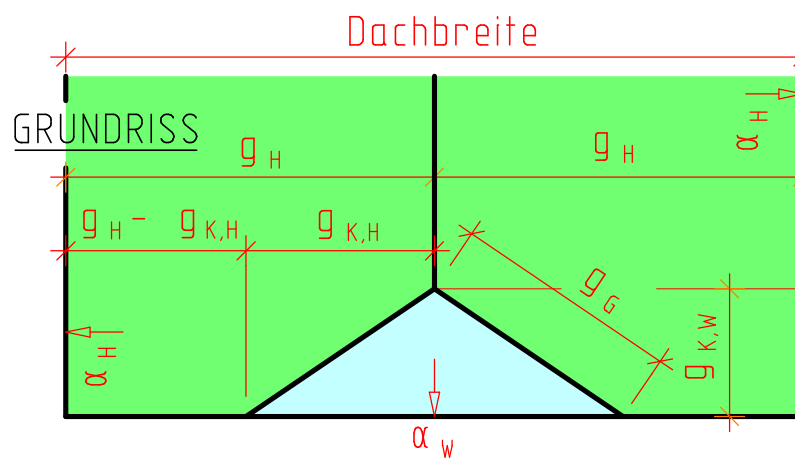
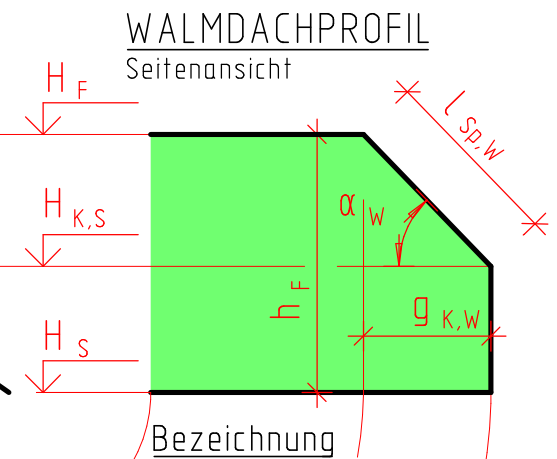
HAUPTDACHPROFIL

Ansicht Giebelmauer



WALMDACHPROFIL

Seitenansicht



Bezeichnung

- g . . . Grundmaß
- h . . . lotrechtes Maß
- H . . . Höhe bezogen auf ±0,00
- l . . . Länge
- Index
- H . . . Hauptdach
- W . . . Walmdach
- K . . . Krüppelwalm
- F . . . First
- S . . . Saum
- G . . . Grat
- Sp . . . Sparren


Zeichnen Sie die 3 Profile des Krüppelwalmdaches und den Gratgrund. Beschriften Sie die einzelnen Elemente mit Maßlinien und den richtigen Größen, Abkürzungen.

In welcher Beziehung stehen die einzelnen Profile zueinander?

HAUPTDACHPROFIL

GRATPROFIL

WALMDACHPROFIL



GRATGRUND

