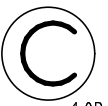


NAME: _____

Datum: _____



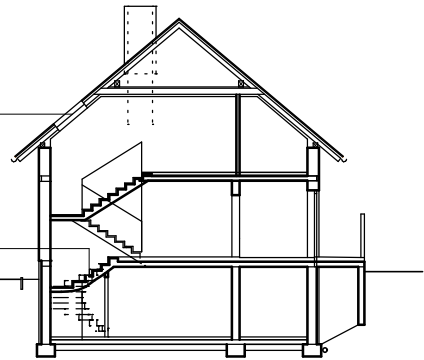
1,0P

1 Sicherheit am Bau: Nennen Sie die wichtigsten Regeln bei der Bedienung der Handkreissäge.

2 Begriffe: Wie nennt man diese 2 Bauteile des dargestellten Hauses?
Schreiben Sie die Begriffe auf die Linien.

Schreiben Sie die 3 Abkürzungen für die Bezeichnungen der Stockwerke in den Hausschnitt.

Eine verzogene Treppe heißt ...



1,0P

3 Wie nennt man das Maß das von FBOK bis FBOK im nächsten Stockwerk geht mit dem Fachausdruck? 0,5P

4 Was bedeuten diese Zeichen?



rot

blau



1,0P

5 Werkzeug: Nennen Sie möglichst viele Arten von Kellen.

0,5P

6 Mauerwerksverbände: Nennen Sie die allgemein gültigen Regeln für die Mauerwerksverbände.

1,0P

Notenspiegel
6,5-7 Sehr Gut
5,5-6 Gut
4,5-5 Befriedigend
3,5-4 Genügend
0-3 Nicht Genügend

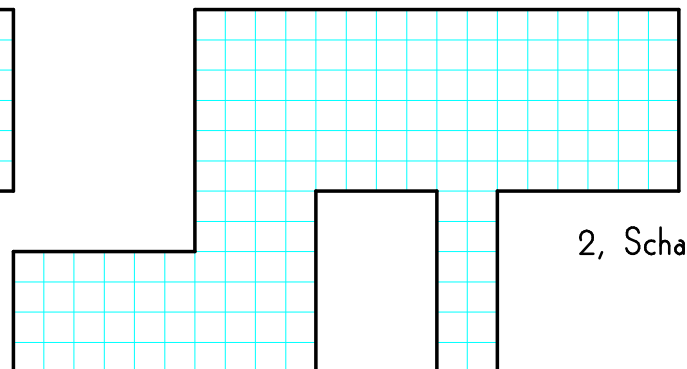
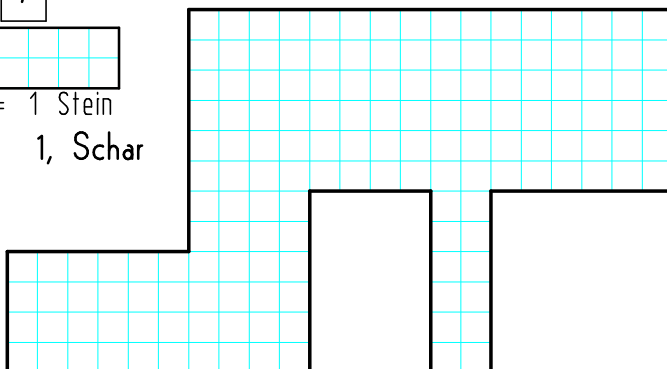
7 Blockverband: zeichnen Sie die 2 Scharen in die dargestellten Mauerumrisse ein.

2,0P



= 1 Stein

1, Schar



2, Schar