

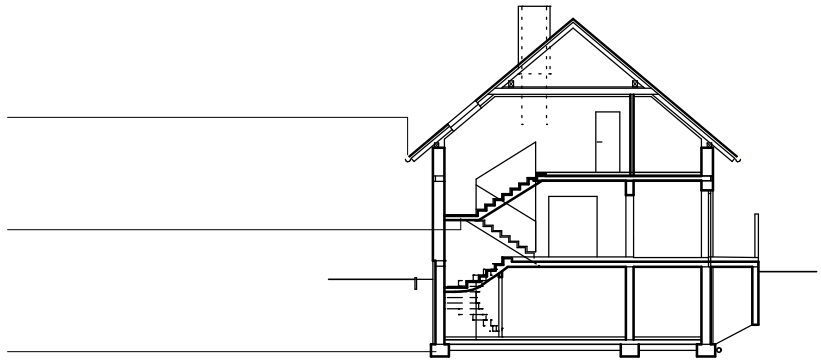
NAME: _____

Datum: _____



1 Sicherheit am Bau: Nennen Sie möglichst viele, wichtige Gründe, Beispiele, dass Sie Arbeiten auf der Baustelle nicht machen. 1,5P

2 Begriffe: Wie nennt man diese 3 Punkte / Bauteile des dargestellten Hauses?
Schreiben Sie die Begriffe auf die Linien.



1,5P

3 Begriffe: In einem Plan steht klein "WS" und verschiedene Zahlen dahinter. Was bedeutet diese Abkürzung?

0,5P

4 Was bedeuten diese Zeichen?



1,0P

5 Werkzeug: Nennen Sie möglichst viele Arten von Kellen.

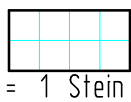
1,0P

6 Ziegel: Nennen Sie die Abmessungen eines NF-Dreiviertlers. (Länge, Breite, Höhe)


1,0P

7 Blockverband: zeichnen Sie die 2 Scharen in die dargestellten Mauerumrisse ein.

| | |
|--------------|----------------|
| Notenspiegel | |
| 8-8,5 | Sehr Gut |
| 7,5-7,5 | Gut |
| 6-7 | Befriedigend |
| 4,5-5,5 | Genügend |
| 0-4 | Nicht Genügend |



1, Schar



2, Schar

