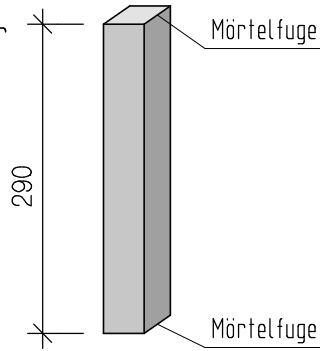


Rechenansätze aufschreiben bzw. Rechengänge

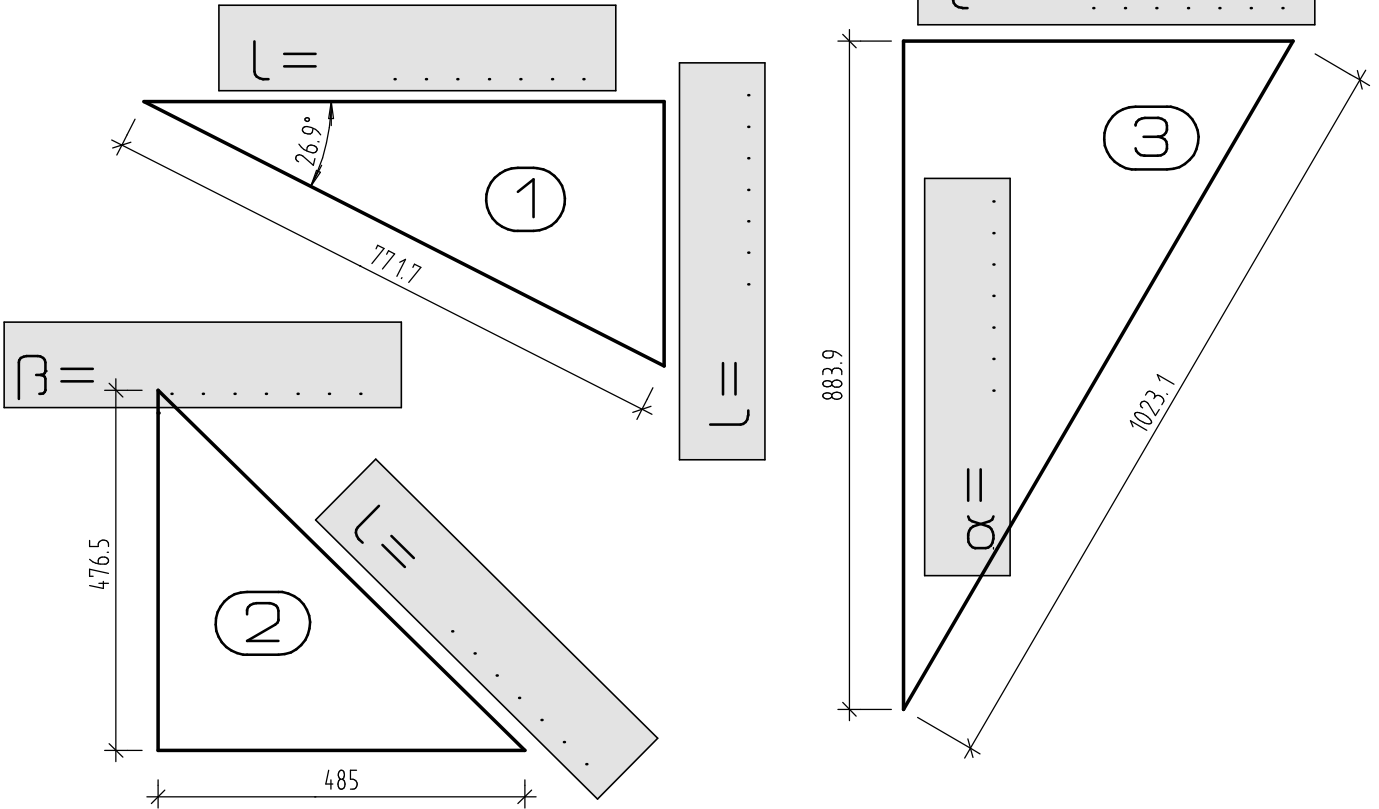
3. Aufstichsberechnung:
 Ein aus NF gemauerter Mauerwerkspfeiler ist 2,90m hoch.
 Berechnen Sie die Scharenanzahl, die Lagerfugendicke und die Scharenhöhe.



4 P

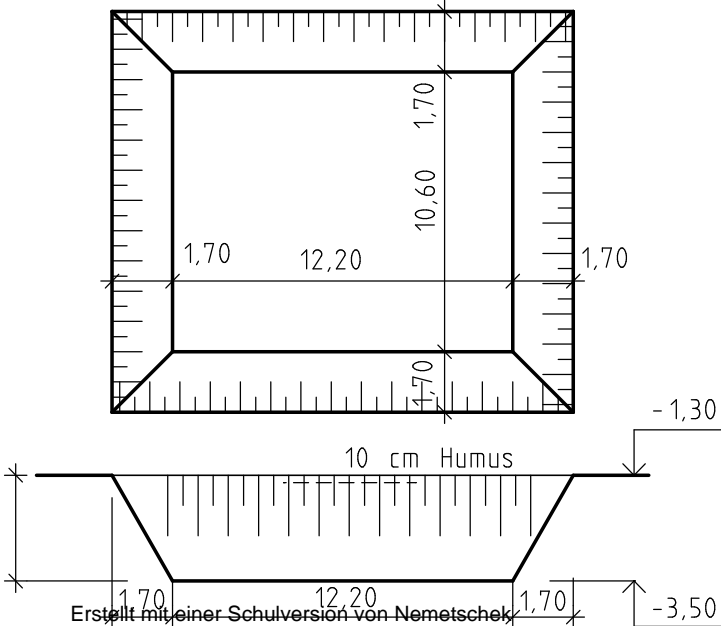
4. Winkelfunktionen beim rechtwinkligen Dreieck.
 Berechnen Sie alle durch Kästchen dargestellten Werte und tragen Sie sie ein.

6 P



5. Baugrubenaushub Für die genaue Berechnung gibt es mehr Punkte.
 Berechnen Sie für die dargestellte Baugrube den Humusabtrag und den Baugrubenaushub.

5 P



Erstellt mit einer Schulversion von Nemetschek