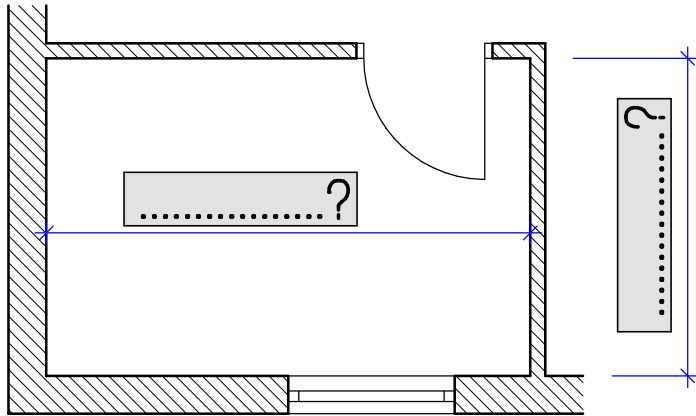


2.1

Zeichnen Sie einen Balkenquerschnitt 16/24cm (Breite 16cm / Höhe 24cm) im Maßstab 1 : 3 auf der Blattrückseite auf. →

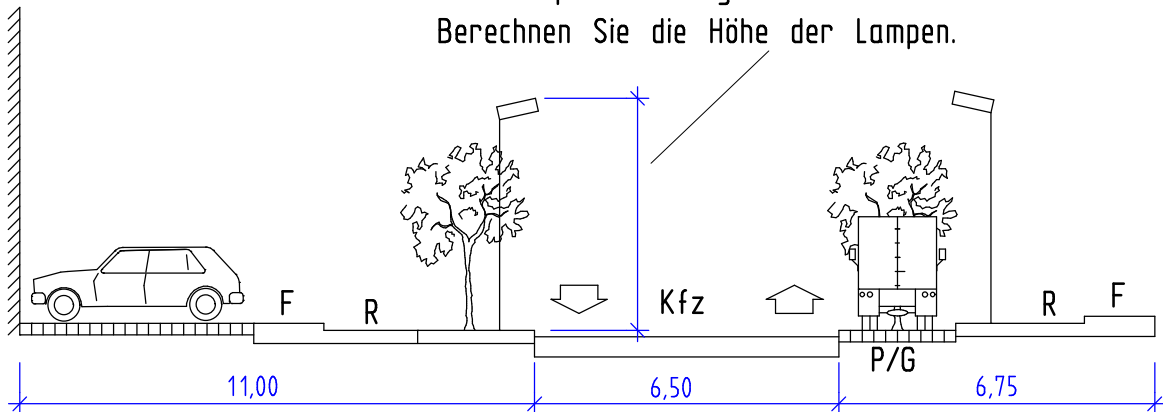
2.2

Ein Raum ist im Maßstab 1 : 50 gezeichnet worden. Wie groß sind seine Innenmaße in Wirklichkeit. (Beschriften Sie die Maßlinien mit den Naturmaßen.) Ergebnisse mit Einheit!



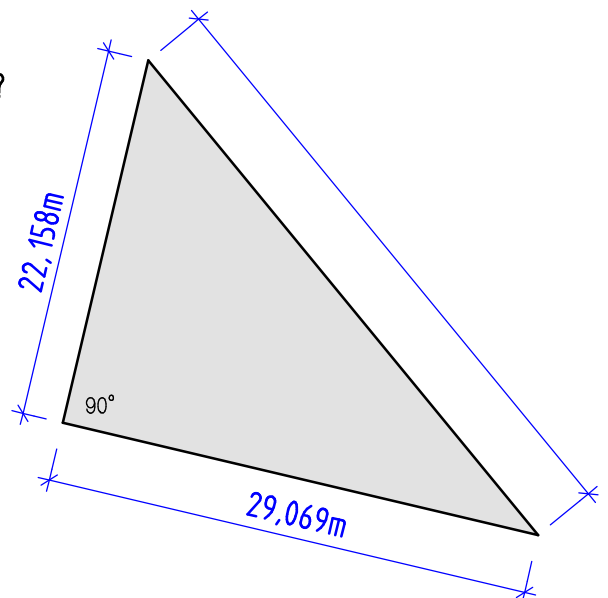
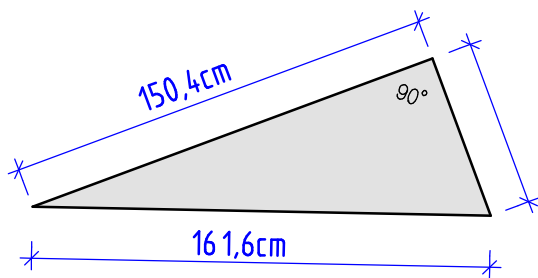
2.3

In welchem Maßstab ist dieser Straßenquerschnitt gezeichnet? Berechnen Sie die Höhe der Lampen.



2.4

In welchen Maßstäben sind diese Dreiecke gezeichnet? Berechnen Sie zusätzlich deren Fläche und Umfang. Ergebnisse in m bzw. m².



Rechenansätze aufschreiben, nachvollziehbar arbeiten