



GRUNDRISS, ANSICHT und SCHNITT

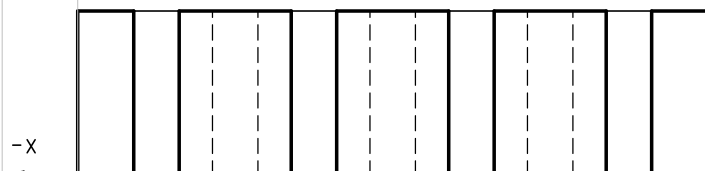
ANSICHT A M 1:3



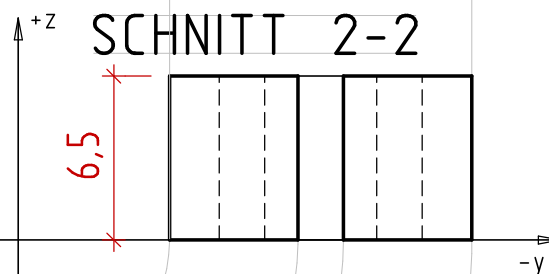
ANSICHT B



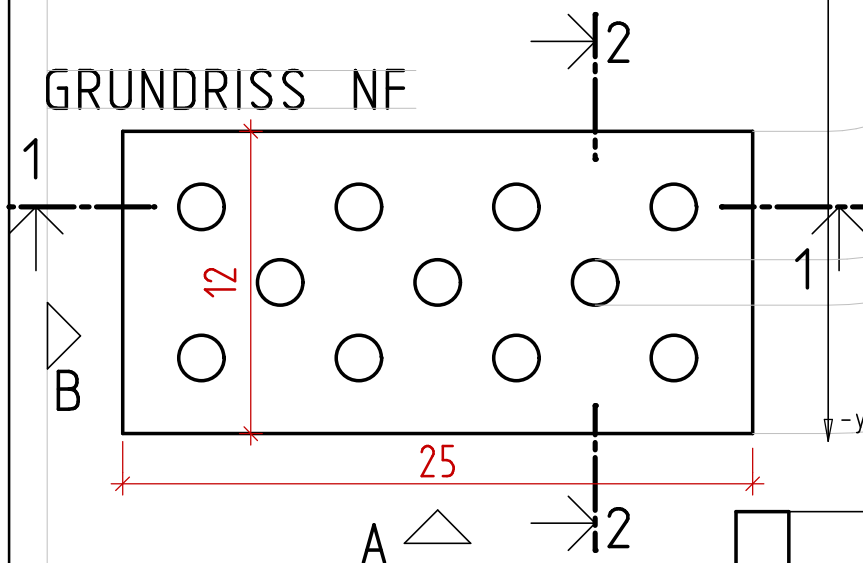
SCHNITT 1-1



SCHNITT 2-2



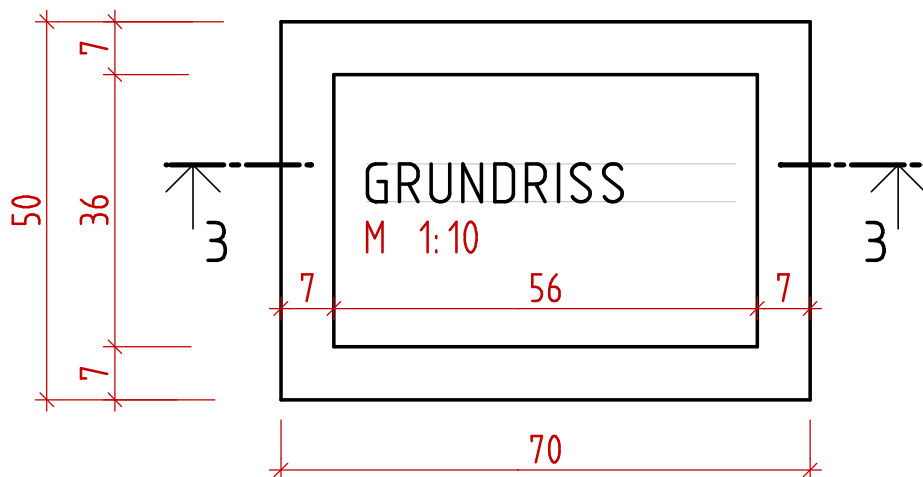
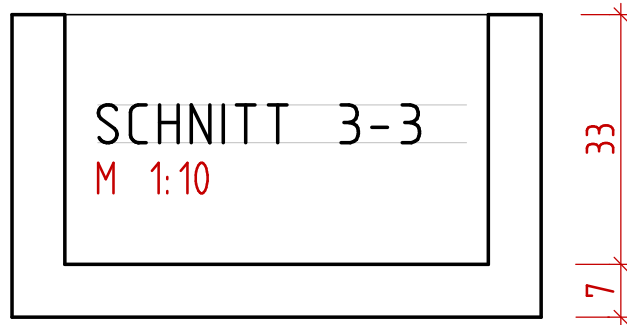
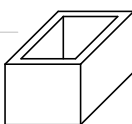
GRUNDRISS NF



Berechnen Sie den Maßstab des gelochten Normalformatziegels (25/12/6,5cm).
Zeichnen Sie die gekennzeichneten Schnitte und Ansichten in den richtigen Linienarten.
Bemaßen Sie im Grundriss die Länge und Breite und in den Aufrissen die Höhen mit saubereren Maßlinien.

BRUNNENTROG

Ein Brunnentrog ist 70cm lang, 50cm breit und 40cm hoch. Die Wandstärke beträgt 7cm.
Zeichnen Sie für diesen Trog einen Grundriss und einen Schnitt in einem passenden Maßstab.
Tragen Sie die Maße und Beschriftungen ein.



Blatt Nr. _____

Name: _____

Datum: _____

Blattrand

Heftrand