



# GRUNDRISS, ANSICHT und SCHNITT

ANSICHT A M 1:3

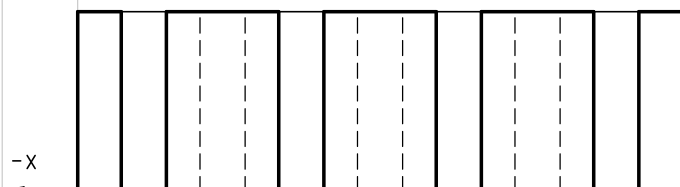


ANSICHT B



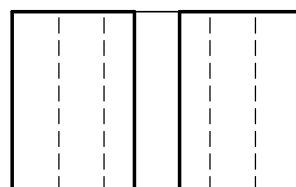
7,1

SCHNITT 1-1



-x

SCHNITT 2-2

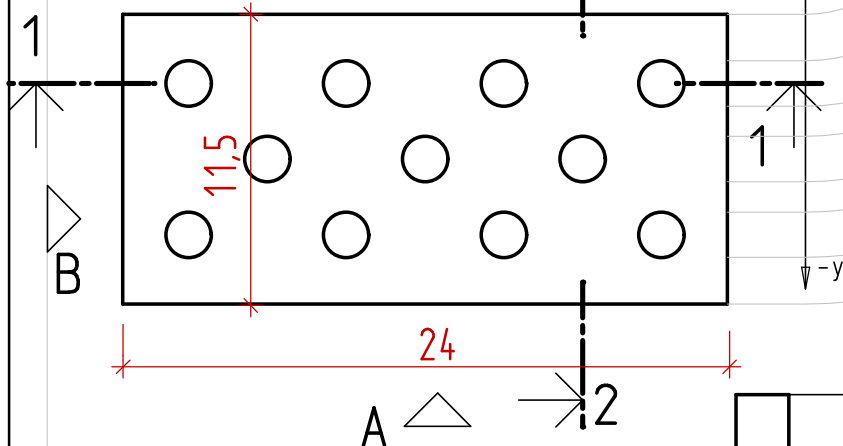


7,1

-y

+z

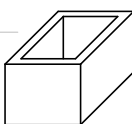
GRUNDRISS NF



NF Deutschland  
Berechnen Sie den Maßstab des gelochten Normalformatziegels (24/11,5/7,1cm).  
Zeichnen Sie die gekennzeichneten Schnitte und Ansichten in den richtigen Linienarten.  
Bemaßen Sie im Grundriss die Länge und Breite und in den Aufrissen die Höhen mit saubereren Maßlinien.

## BRUNNENTROG

Ein Brunnentrog ist 70cm lang, 50cm breit und 40cm hoch. Die Wandstärke beträgt 7cm.  
Zeichnen Sie für diesen Trog einen Grundriss und einem Schnitt in einem passenden Maßstab.  
Tragen Sie die Maße und Beschriftungen ein.



SCHNITT 3-3

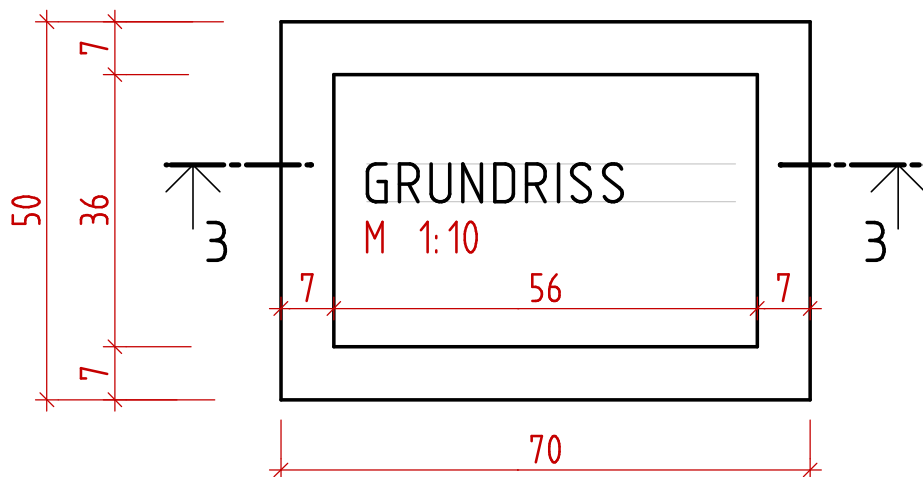
M 1:10



33  
7

GRUNDRISS

M 1:10



Blattrand

Heftrand

Blatt Nr. \_\_\_\_\_

Name: \_\_\_\_\_

Datum: \_\_\_\_\_