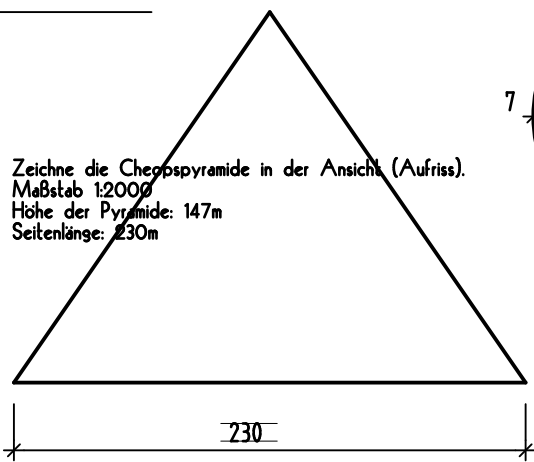


# MASSSTÄBLICHE BAUTEILE

## CHEOPSPYRAMIDE

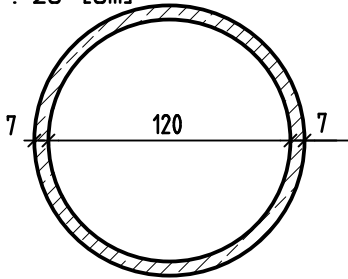
M 1 : 2000 [m]



Zeichne die Cheopspyramide in der Ansicht (Aufriss).  
Maßstab 1:2000  
Höhe der Pyramide: 147m  
Seitenlänge: 230m

## SCHACHTRING

M 1 : 25 [cm]




Zeichne den Grundriss eines Schachtringes (Kanalschacht).  
Er hat einen Innendurchmesser von 120cm und ist 70mm stark.  
Maßstab 1:25

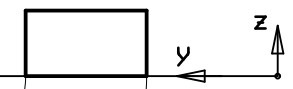
## NORMALFORMATZIEGEL

M 1 : 5

### ANSICHT A



### ANSICHT B



### DRAUFSICHT

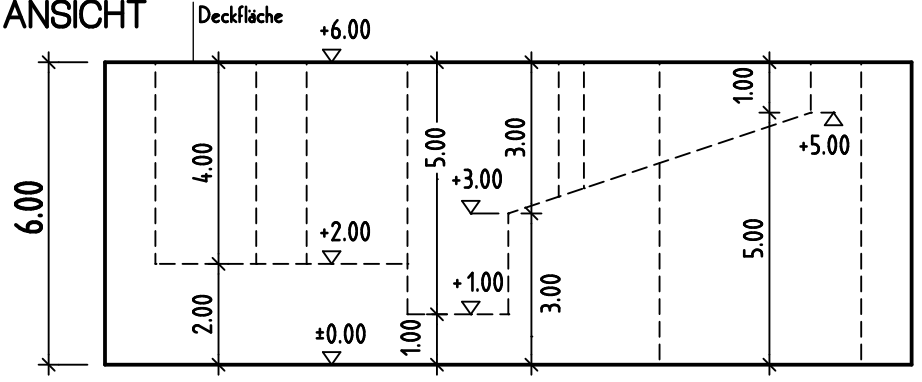


Zeichne einen NF als Draufsicht und in seinen Ansichten  
Maßstab 1:5

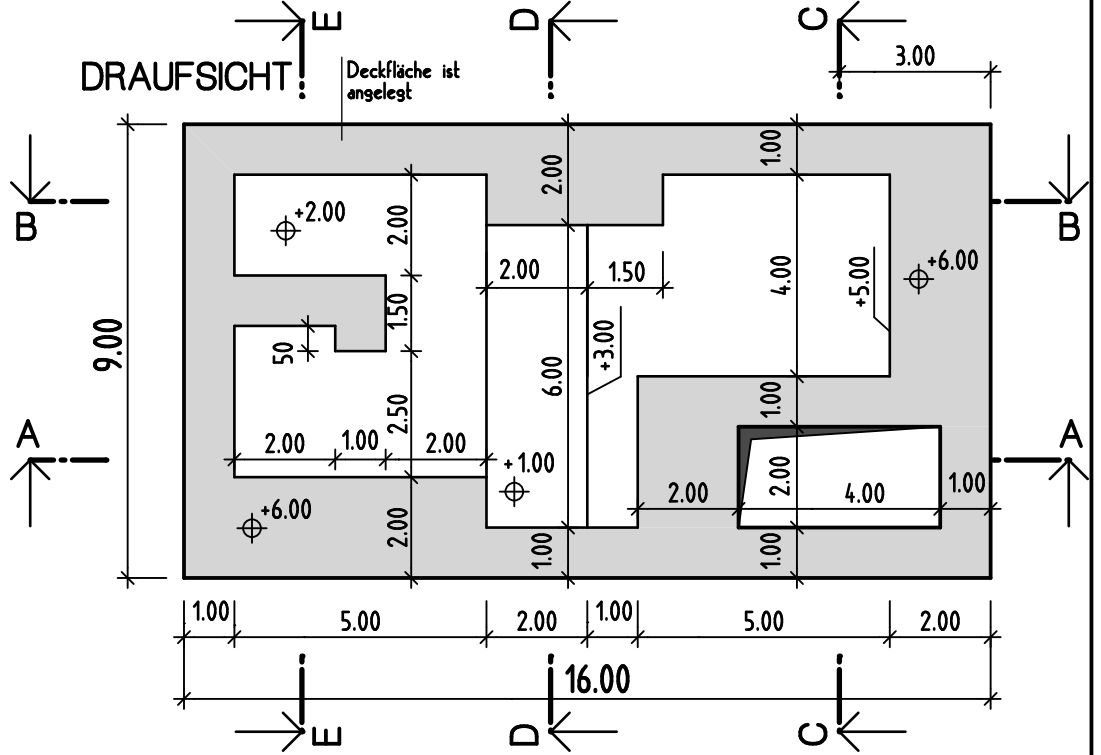
# SCHNITTDARSTELLUNGEN

Unten ist ein Körper durch eine Ansicht und eine Draufsicht dargestellt.  
Zeichne mindestens 4 der eingezeichneten Schnitte dieses Körpers auf und schraffiere die geschnittenen Bereiche.

## ANSICHT



## DRAUFSICHT



Name: \_\_\_\_\_ Datum: \_\_\_\_\_  
Klasse: \_\_\_\_\_ Blatt Nr.: \_\_\_\_\_