

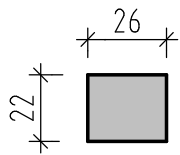
Stb-Stützen, Betonvolumen und Schalungsfläche

Einfache Querschnitte

Berechnen Sie die fehlenden Querschnittsmaße, die Stützenhöhe, das Betonvolumen und die Schalungsfläche

STÜTZE 40

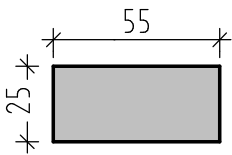
DUK -0,38
DOK -2,90



$h =$ _____
 $V =$ _____
 $A =$ _____

STÜTZE 41

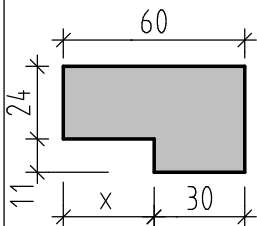
DUK +6,30
DOK +3,25



$h =$ _____
 $V =$ _____
 $A =$ _____

STÜTZE 42

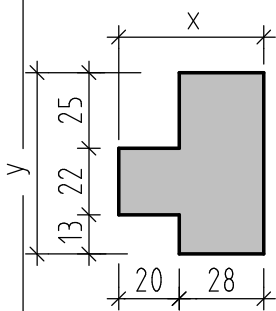
DUK +2,40
DOK -0,25



$h =$ _____
 $x =$ _____
 $V =$ _____

STÜTZE 43

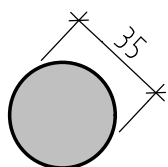
DUK +10,85
DOK +9,32



$h =$ _____
 $x =$ _____
 $y =$ _____
 $V =$ _____

STÜTZE 44

DUK +4,80
DOK -0,55



$h =$ _____
 $r =$ _____
 $V =$ _____
 $A =$ _____