

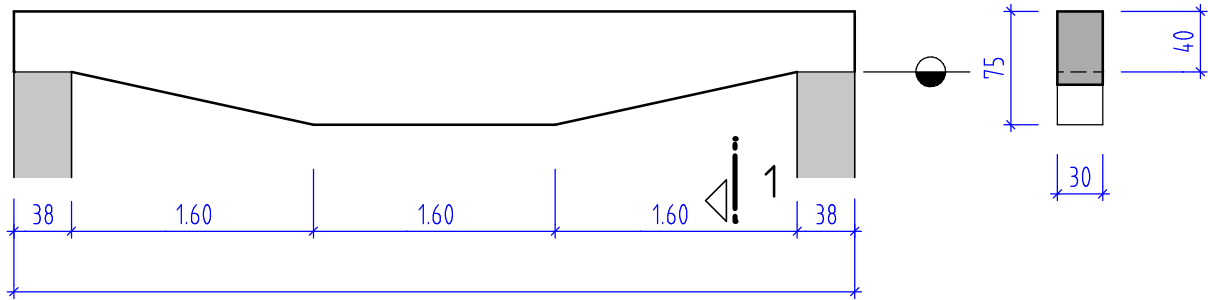
Übungsbeispiele Stahlbetonbalken, Betonvolumen und Schalungsfläche

25 Berechnen Sie das Betonvolumen und die Schalungsfläche des dargestellten Stahlbetonbalkens.

ANSICHT **25**

1

SCHNITT 1-1

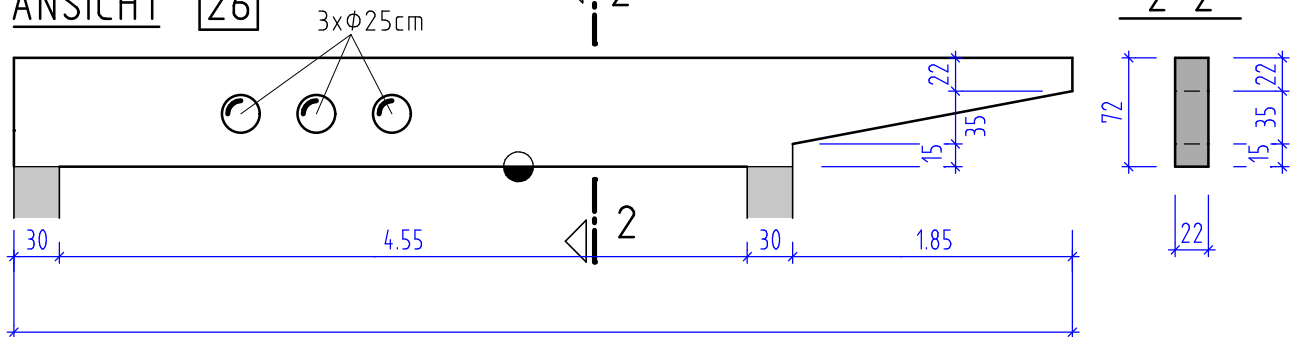


26 Berechnen Sie das Betonvolumen und die Schalungsfläche des dargestellten Stahlbetonbalkens.

ANSICHT **26**

2

2-2



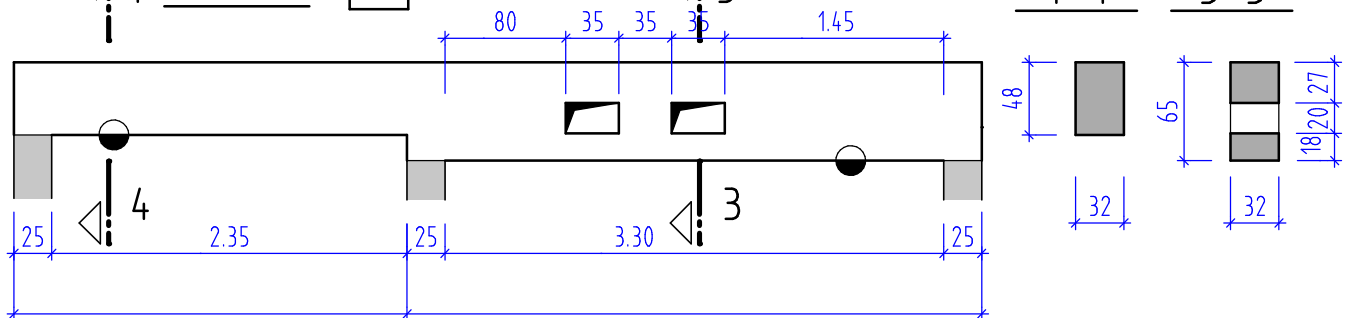
27 Berechnen Sie das Betonvolumen und die Schalungsfläche des dargestellten Stahlbetonbalkens.

ANSICHT **27**

3

4-4

3-3



28 Berechnen Sie das Betonvolumen und die Schalungsfläche des dargestellten Stahlbetonbalkens.

ANSICHT **28**

5

6

5-5

6-6

