

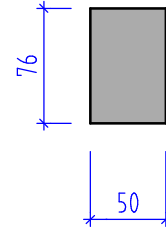
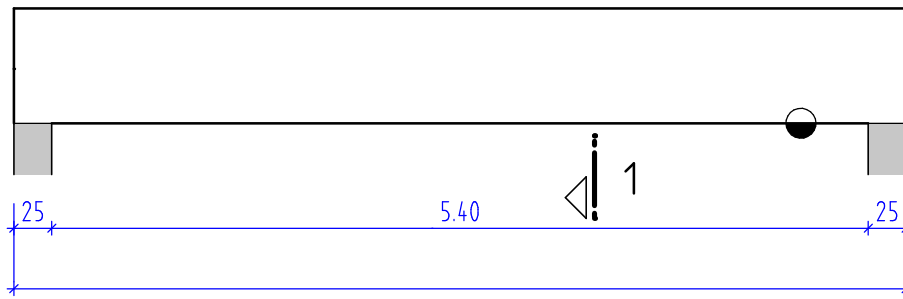
# Übungsbeispiele Stahlbetonbalken, Betonvolumen und Schalungsfläche

**20** Berechnen Sie das Betonvolumen und die Schalungsfläche des dargestellten Stahlbetonbalkens.

ANSICHT **20**



SCHNITT 1-1

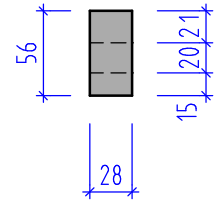
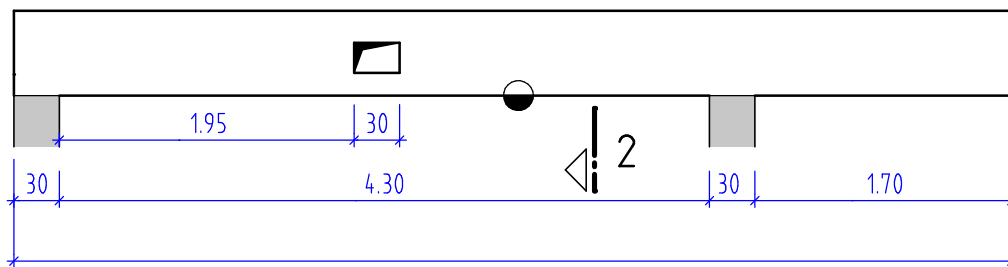


**21** Berechnen Sie das Betonvolumen und die Schalungsfläche des dargestellten Stahlbetonbalkens.

ANSICHT **21**



SCHNITT 2-2



**22** Berechnen Sie das Betonvolumen und die Schalungsfläche des dargestellten Stahlbetonbalkens.

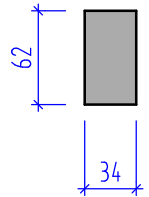
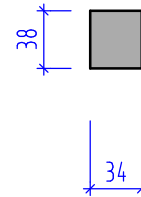



ANSICHT **22**



4-4

3-3



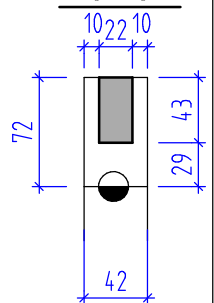
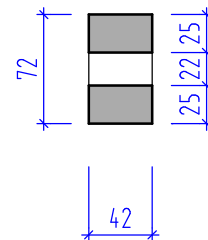
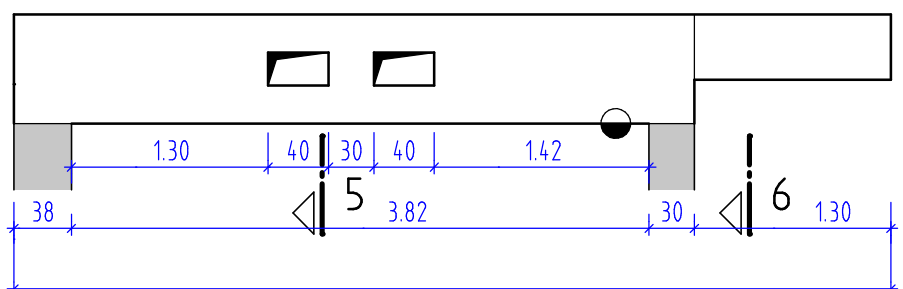
**23** Berechnen Sie das Betonvolumen und die Schalungsfläche des dargestellten Stahlbetonbalkens.

ANSICHT **23**



5-5

6-6



RECHENANSATZE AUFSCHREIBEN, ÜBERSICHTLICH UND NACHVOLLZIEHBAR ARBEITEN